


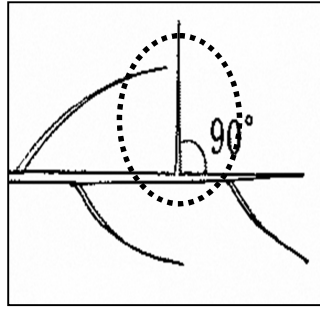
第20回 農業後継者りんご整枝せん定競技会（筆記試験）

団体名		番 号		氏 名	
-----	--	-----	--	-----	--


問題1 次の図の名称を答えなさい。 8点(各2点)



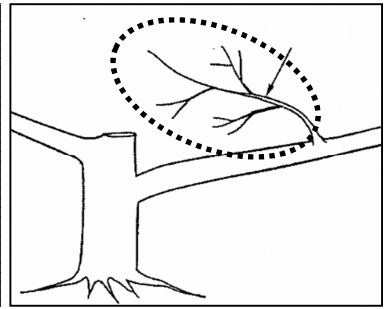
()



()



()



()

問題2 次の文章にあてはまる用語を選びなさい。 20点 (各2点)

- ① 果枝長が長果枝以上、徒長枝も含む
- ② 地上部（TOP）と地下部（ROOT）の吊り合い。地上部／地下部で表す
- ③ 枝の長さを途中から切ること
- ④ 主枝の背中に結実部位をやぐら状につくった状態
- ⑤ 生育旺盛な枝に対して、生育をけん制するために利用する枝
- ⑥ 樹体に切り傷等が生じた時に、治癒作用が働いて新しくできる組織
- ⑦ 果台から発出した枝
- ⑧ 新梢の先端部がトゲ状で芽らしい芽の形成がない枝
- ⑨ 着葉部位に形成された芽
- ⑩ 果実が成った跡で頂芽の形成がないもの

答え

答え

答え

答え

答え

答え

答え _____

答え

答え

答え

間引き、切り上げ、切り返し、長果枝、発育枝、ふところ枝、けん制枝、やぐら枝、斜向枝、最短果枝、
果台枝、針枝、頂芽、果台、果瘤、定芽、混合芽、TR 率、RT 率、ゆ合組織、結合組織

問題3 次の文章の（ ）にあてはまる用語を下から選びなさい。 16点（各2点）

- ①樹の骨格を作るうえで、主枝の発出部位は（ ）を高く、（ ）を低く出すのが基本である。
- ②枝は高い位置や先端から出たものほど生育が（ ）である。これを（ ）という。
- ③主幹の長さから見た樹形の仕立て方において、主枝の高さが地表から2.4m以上を（ ）、0.6～1.2mまでを（ ）仕立てという。
- ④りんごの（ ）形成は、主に7月上旬頃から8月下旬頃にかけて行われる。
- ⑤幹や枝、葉などの伸長肥大する生長を（ ）、花をつくり、果実を生産する生長を（ ）という。
- ⑥若木や樹勢の強い樹には（ ）剪定、樹勢の弱い樹には（ ）剪定が基本である。
- ⑦丸葉栽培において、開心形に移行する過程として、主幹形（ ）、（ ）、開心形の順に樹を構成していく。
- ⑧花芽形成は（ ）、中果枝、（ ）の順番で形成される。

東、西、南、北、切り返し、短い、間引き、旺盛、衰弱、生殖生長、栄養生長、頂部優勢、基部優勢、長幹、中幹、短幹、主幹形、遅延開心形、変則主幹形、開心形、花芽、葉芽、頂芽、短果枝、長果枝、発育枝

問題4 剪定葉隠れ論語より次の語録はだれか答えなさい。 10点（各2点）

- ①「剪定とは切らぬことと見つけたり」 答え _____
- ②「りんご樹は三年を1期としてかわる」 答え _____
- ③「樹に窓をつけよ」 答え _____
- ④「骨は仁王の如く、成り枝は姫の如くせよ」 答え _____
- ⑤「枝に凹凸を着けよ」 答え _____

問題5 次の問いに答えなさい。 8点（各4点）

- ①県天然記念物に指定されており、今年で樹齢148年になるつがる市柏のりんご最古の樹の2品種は何か。

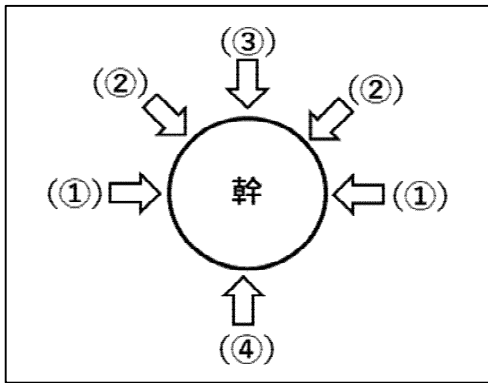
答え _____

- ②「ふじ」の生みの親と育ての親と言われる人物は誰か。

答え 生みの親 _____

育ての親 _____

問題6 次の図の①～④の部位別の呼称を答えなさい。 20点（各5点）



答え① _____

答え② _____

答え③ _____

答え④ _____

問題7 整枝剪定の目的を3つ答えなさい。 9点（各3点）

答え ① _____

② _____

③ _____

問題8 花芽形成(7月)に良い条件を3つ答えなさい。 9点（各3点）

答え ① _____

② _____

③ _____