

第11回 農業後継者りんご整枝剪定講習兼競技会 (筆記試験: 回答)

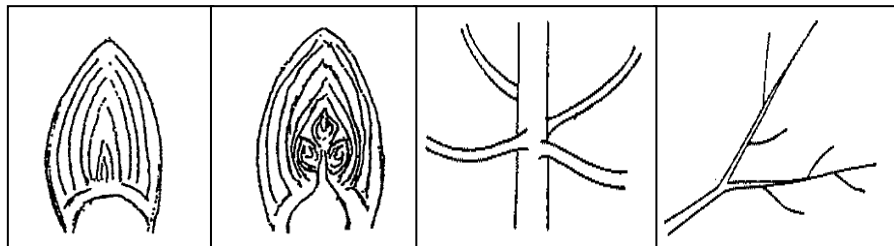
団体名		番号		氏名	
-----	--	----	--	----	--

問1、文章の ( ) 内に適切な用語を下から選び、記号をいれなさい。【各2点 (20点)】

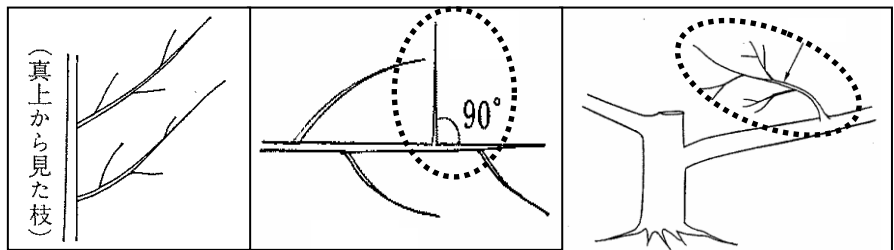
- (1) 枝は ( L ) 位置や ( E ) から出たものほど生育が旺盛である。これを ( G ) という。
- (2) 枝の大小や長さに関わらず分岐部から剪去することを ( C ) 剪定、枝の長さを途中で剪去することを ( H ) 剪定という。
- (3) 新梢は生長点の細胞分裂によって伸長するが、細胞分裂のためには ( J ) が必要であり、分裂した細胞が大きくなるには ( M ) が必要である。
- (4) 花芽が分化する順序は ( B ) 果枝、中果枝、( I ) 果枝の順である。

A、低い B、短 C、間引き D、頂芽 E、先端 F、カリウム G、頂部優勢  
H、切り返し I、長 J、リン酸 K、切り下げ L、高い M、チッ素

問2、下図の名称を答えよ。【各3点 (30点)】

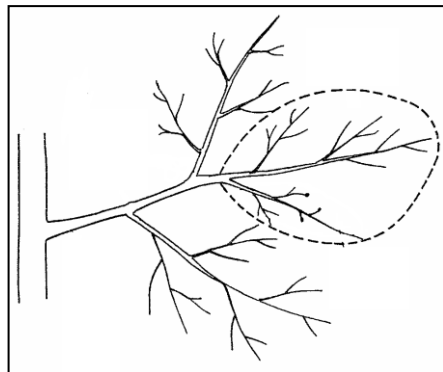


( 葉芽 ) ( 花芽 ) ( 車枝 ) ( 共枝 )



( 平行枝 ) ( 角枝 ) ( 逆向枝 )

角枝 共枝 葉芽 車枝 逆向枝 平行枝 花芽 結果母枝  
立枝 新梢 1年枝 結果母枝群 結果枝 樹冠 樹高



( 結果母枝 )

問3、以下の問いに答えよ【各5点 (25点)】

- (1) 樹に傷がついた場合、治癒作用が働くことで傷口を保護する新しい組織を何というか。  
ゆ合組織(カルス)
- (2) そのままでは発芽しない芽や潜芽の発芽を促すために、芽の上部の樹皮に木部へ達する傷をつける技術。わい化栽培や基部の禿げ上がりつつある側枝などで行われる。  
目傷
- (3) 丸葉樹を10畝当たり列間5畝、樹冠6畝で改植を行った。10畝当たりの植栽本数は何本になったか。  
 $(10 \times 100) \div (5 \times 6) = 33.333$   
33 本
- (4) 殺菌剤A (1本当たり容量250ml) を2,000倍で調合する場合、1,000ℓ当たり何本必要か。  
 $(250\text{ml} \times 2000 \text{倍}) \div 1000\ell = 500\text{ml}$   
2 本
- (5) 1袋当たりN15%、P5%、K5%が配合された有機質肥料(20kg)を施肥したい。10a当たりN成分を15kg投入する場合は何袋必要か。  
 $20 \times 0.15 = 3$        $15 \div 3 = 5$   
5 袋

問4、以下の問いに答えよ。【各3点 (15点)】

- (1) 青森県のりんごの面積はおおよそ ( 20,800 (20,824 畝:平成27年) ) 畝で、うち弘前市の面積は ( 8,600 (8,651 畝:平成27年) ) 畝である。
- (2) 農業粗収益から農業経営費を引いたものを ( 農業所得 ) といい、農外収入から農外支出を引いたのを ( 農外所得 ) という。これらを合計したものを ( 農家所得 ) という。

問5、次の掛け合わせに対し正しい品種名をを答えよ【各2点 (10点)】

- ① ゴールデン × 千秋 = ( シナノゴールド )
- ② 王林 × ふじ = ( トキ )
- ③ 国光 × デリシャス = ( ふじ )
- ④ ゴールデンデリシャス × 紅玉 = ( つがる )
- ⑤ ふじ × つがる = ( シナノスイート )